

中文姓名: \_\_\_\_\_

14(32)-5

英文姓名: \_\_\_\_\_

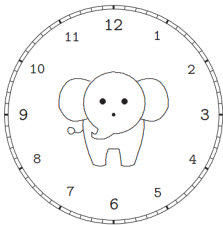
成績: \_\_\_\_\_

$$\begin{array}{r} \square \\ + 21 \\ \hline \square 5 \end{array} \quad \begin{array}{r} 7 \\ + 2\square \\ \hline 28 \end{array}$$

16	19	8
- 14	+ 9	+ 3

1. Please draw the clock hands:

1. 画时针跟分针:

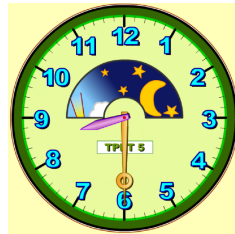


七点三十分。

07:30.

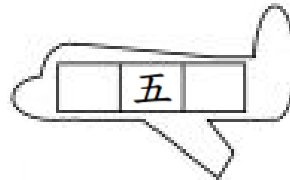
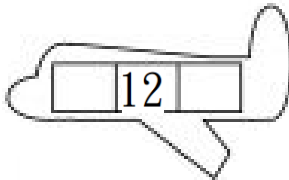
2. Please write down what time it is:

2. 这是几点?



Please write down before and after numbers:

For calendar question: before number is yesterday's date & after number is tomorrow's date.



1.Q: 今天是几月几号/日?

1.A: \_\_\_\_\_

1.Q: 今天星期几?

1.A: \_\_\_\_\_

2.Q: 明天是几月几号/日?

2.A: \_\_\_\_\_

2.Q: 明天星期几?

2.A: \_\_\_\_\_

3.Q: 昨天是几月几号/日?

3.A: \_\_\_\_\_

3.Q: 昨天星期几?

3.A: \_\_\_\_\_

- 1. 今天是四月十二日。
- 1. 今天是星期五。
- 2. 明天是四月十三日。
- 2. 明天是星期六。
- 3. 昨天是四月十一日。
- 3. 昨天是星期四。