

中文姓名: _____

14(32)-1

英文姓名: _____

成績: _____

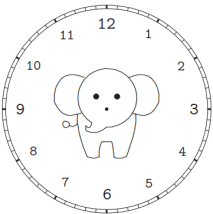
$$\begin{array}{r} 66 \\ + \square \\ \hline \square 0 \end{array}$$

$$\begin{array}{r} 5 \\ - 8\square \\ \hline \square 1 \end{array}$$

19	11	19
+ 18	+ 20	+ 4

1. Please draw the clock hands:

1. 画时针跟分针:

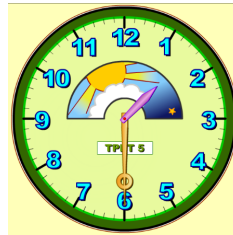


十二点 三十分。

12 : 30.

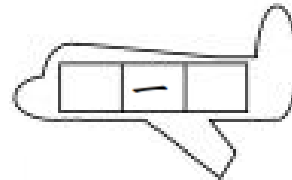
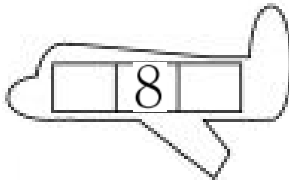
2. Please write down what time it is:

2. 这是几点?



Please write down before and after numbers:

For calendar question: before number is yesterday's date & after number is tomorrow's date.



1.Q: 今天是几月几号/日?

1.A: _____

1.Q: 今天星期几?

1.A: _____

2.Q: 明天是几月几号/日?

2.A: _____

2.Q: 明天星期几?

2.A: _____

3.Q: 昨天是几月几号/日?

3.A: _____

3.Q: 昨天星期几?

3.A: _____



- 1. 今天 是 四月 八 日。
- 1. 今天 是 星期 一。
- 2. 明天 是 四月 九 日。
- 2. 明天 是 星期 二。
- 3. 昨天 是 四月 七 日。
- 3. 昨天 是 星期 日 / 星期 天。