

中文姓名: \_\_\_\_\_

13(31)-4

英文姓名: \_\_\_\_\_

成績: \_\_\_\_\_

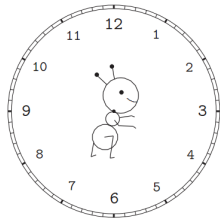
$$\begin{array}{r} 6 \square \\ - 7 \\ \hline 61 \end{array}$$

$$\begin{array}{r} 67 \\ - \square \\ \hline \square 0 \end{array}$$

20	6	6
- 15	+ 4	+ 3

1. Please draw the clock hands:

1. 画时针跟分针:



十一点三十分。

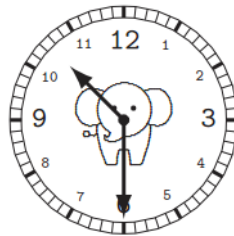
\_\_\_\_\_

11:30.

\_\_\_\_\_

2. Please write down what time it is:

2. 这是几点?

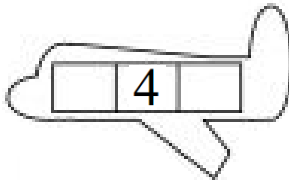


\_\_\_\_\_

\_\_\_\_\_

Please write down before and after numbers:

For calendar question: before number is yesterday's date & after number is tomorrow's date.



1.Q: 今天是几月几号/日?

1.A: 今天是

1.Q: 今天星期几?

1.A: 今天是星期

2.Q: 明天是几月几号/日?

2.A: 明天是

2.Q: 明天星期几?

2.A: 明天是星期

3.Q: 昨天是几月几号/日?

3.A: 昨天是

3.Q: 昨天星期几?

3.A: 昨天是星期



- 1. 今天是四月四日。
- 1. 今天是星期四。
- 2. 明天是四月五日。
- 2. 明天是星期五。
- 3. 昨天是四月三日。
- 3. 昨天是星期三。