

中文姓名: _____

13(31)-3

英文姓名: _____

成績 : _____

$$\begin{array}{r} 7 \square \\ - \square 1 \\ \hline 3 2 \end{array}$$

$$\begin{array}{r} \square \\ + 5 3 \\ \hline \square 1 \end{array}$$

1 8	3	1 9
- 1 1	+ 1 1	- 1 5

1. Please draw the clock hands:

1. 画时针跟分针：

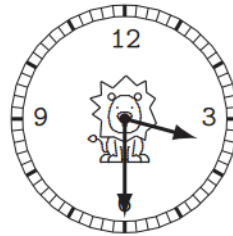


四点三十分。

 04 : 30.

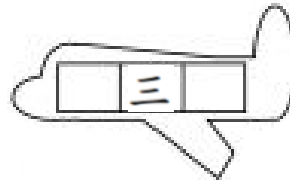
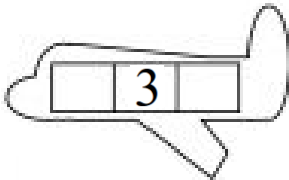
2. Please write down what time it is:

2. 这是几点？



Please write down before and after numbers:

For calendar question: before number is yesterday's date & after number is tomorrow's date.



1.Q: 今天是几月几号/日?

1.A: 今天是 _____

1.Q: 今天星期几?

1.A: 今天是星期 _____

2.Q: 明天是几月几号/日?

2.A: 明天是 _____

2.Q: 明天星期几?

2.A: 明天是星期 _____

3.Q: 昨天是几月几号/日?

3.A: 昨天是 _____

3.Q: 昨天星期几?

3.A: 昨天是星期 _____

- 1. 今天是四月三日。
- 1. 今天是星期三。
- 2. 明天是四月四日。
- 2. 明天是星期四。
- 3. 昨天是四月二日。
- 3. 昨天是星期二。