

中文姓名: _____

12-5

英文姓名: _____

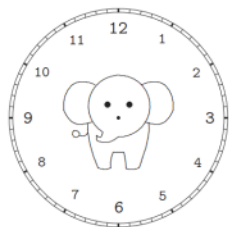
成績 : _____

$$\begin{array}{r} 1 \square \\ - 1 \\ \hline 10 \end{array} \quad \begin{array}{r} 9 \\ + \square 3 \\ \hline 5 \square \end{array}$$

$\begin{array}{r} 31 \\ + 26 \\ \hline \end{array}$	$\begin{array}{r} 32 \\ + 38 \\ \hline \end{array}$	$\begin{array}{r} 11 \\ + 21 \\ \hline \end{array}$

1. Please draw the clock hands:

1. 画时针跟分针：

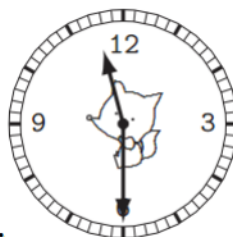


十点三十分。

10 : 30.

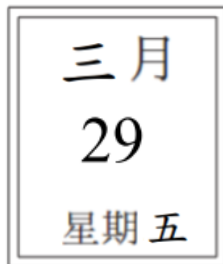
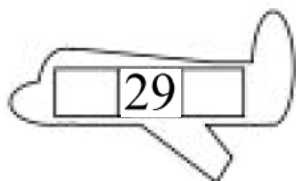
2. Please write down what time it is:

2. 这是几点？



Please write down before and after number

For calendar question: before number is yesterday's date & after number is tomorrow's date.



1.Q: 今天 是几月几号/日?

1.A: 今天是 _____

1.Q: 今天 星期几?

1.A: 今天是 星期 _____

2.Q: 明天 是几月几号/日?

2.A: 明天 是 _____

2.Q: 明天 星期几?

2.A: 明天 是 星期 _____

3.Q: 昨天 是几月几号/日?

3.A: 昨天 是 _____

3.Q: 昨天 星期几?

3.A: 昨天 是 星期 _____

Q: What is the date today?

A: _____

Q: What is the day of the week today?

A: _____

Q: What is the date tomorrow?

A: _____

Q: What is the day of the week tomorrow?

A: _____

Q: What was the date yesterday?

A: _____

Q: What was the day of the week yesterday?

A: _____

1. 今天 是三月二十九日。
1. 今天 是星期五。
2. 明天 是三月三十日。
2. 明天 是星期六。
3. 昨天 是三月二十八日。
3. 昨天 是星期四。